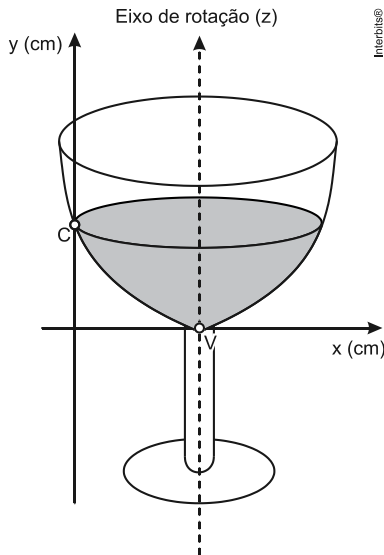


Bateria de Exercícios de Matemática I

1º Trimestre

1. (Enem 2013) A parte interior de uma taça foi gerada pela rotação de uma parábola em torno de um eixo z, conforme mostra a figura.



A função real que expressa a parábola, no plano cartesiano da figura, é dada pela lei $f(x) = \frac{3}{2}x^2 - 6x + C$, onde C é a medida da altura do líquido contido na taça, em centímetros. Sabe-se que o ponto V , na figura, representa o vértice da parábola, localizado sobre o eixo x .

Nessas condições, a altura do líquido contido na taça, em centímetros, é

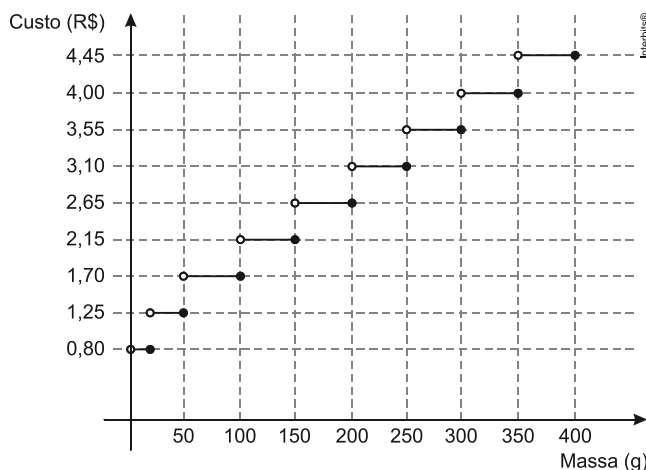
- a) 1. b) 2. c) 4. d) 5. e) 6.

2. (Enem 2013) A temperatura T de um forno (em graus centígrados) é reduzida por um sistema a partir do instante de seu desligamento ($t = 0$) e varia de acordo com a expressão $T(t) = -\frac{t^2}{4} + 400$, com t em minutos. Por motivos de segurança, a trava do forno só é liberada para abertura quando o forno atinge a temperatura de 39° .

Qual o tempo mínimo de espera, em minutos, após se desligar o forno, para que a porta possa ser aberta?

- a) 19,0 b) 19,8 c) 20,0 d) 38,0 e) 39,0

3. (Enem 2013) Deseja-se postar cartas não comerciais, sendo duas de 100g, três de 200g e uma de 350g. O gráfico mostra o custo para enviar uma carta não comercial pelos Correios:

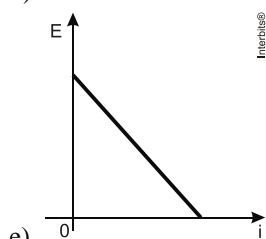
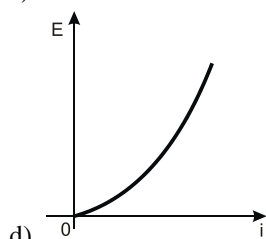
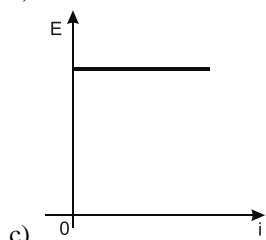
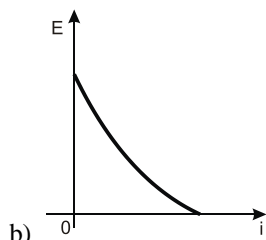
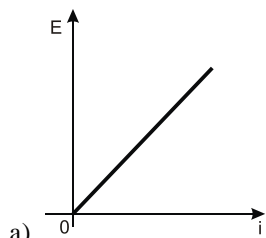


O valor total gasto, em reais, para postar essas cartas é de

- a) 8,35.
- b) 12,50.
- c) 14,40.
- d) 15,35.
- e) 18,05.

4. (Enem 2012) Existem no mercado chuveiros elétricos de diferentes potências, que representam consumos e custos diversos. A potência (P) de um chuveiro elétrico é dada pelo produto entre sua resistência elétrica (R) e o quadrado da corrente elétrica (i) que por ele circula. O consumo de energia elétrica (E), por sua vez, é diretamente proporcional à potência do aparelho.

Considerando as características apresentadas, qual dos gráficos a seguir representa a relação entre a energia consumida (E) por um chuveiro elétrico e a corrente elétrica (i) que circula por ele?



5. (Enem 2012) As curvas de oferta e de demanda de um produto representam, respectivamente, as quantidades que vendedores e consumidores estão dispostos a comercializar em função do preço do produto. Em alguns casos, essas curvas podem ser representadas por retas. Suponha que as quantidades de oferta e de demanda de um produto sejam, respectivamente, representadas pelas equações:

$$Q_O = -20 + 4P$$

$$Q_D = 46 - 2P$$

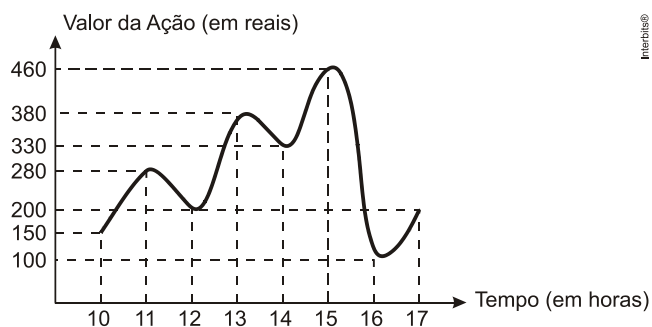
em que Q_O é quantidade de oferta, Q_D é a quantidade de demanda e P é o preço do produto.

A partir dessas equações, de oferta e de demanda, os economistas encontram o preço de equilíbrio de mercado, ou seja, quando Q_O e Q_D se igualam.

Para a situação descrita, qual o valor do preço de equilíbrio?

- a) 5
- b) 11
- c) 13
- d) 23
- e) 33

6. (Enem 2012) O gráfico fornece os valores das ações da empresa XPN, no período das 10 às 17 horas, num dia em que elas oscilaram acentuadamente em curtos intervalos de tempo.



Neste dia, cinco investidores compraram e venderam o mesmo volume de ações, porém em horários diferentes, de acordo com a seguinte tabela.

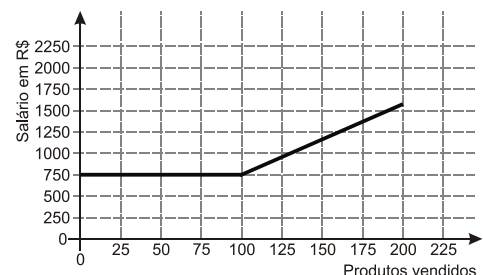
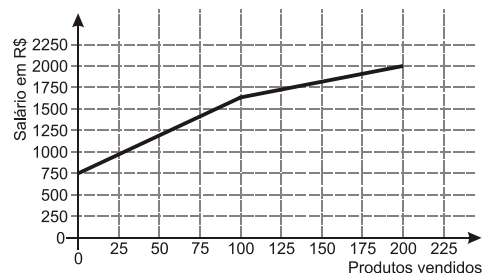
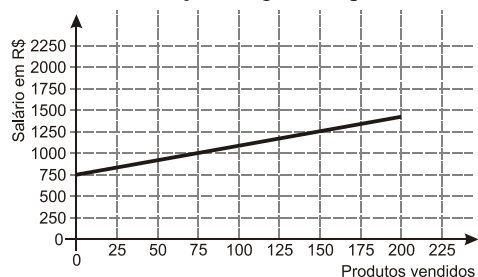
Investidor	Hora da Compra	Hora da Venda
1	10:00	15:00
2	10:00	17:00
3	13:00	15:00
4	15:00	16:00
5	16:00	17:00

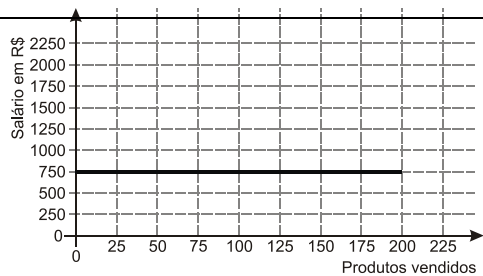
Com relação ao capital adquirido na compra e venda das ações, qual investidor fez o melhor negócio?

- 1
- 2
- 3
- 4
- 5

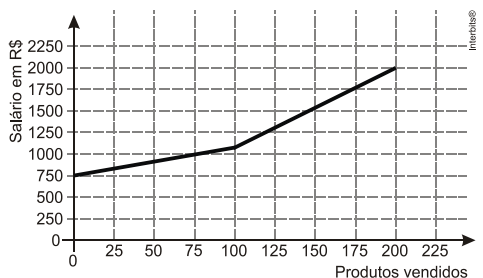
7. (Enem 2012) Certo vendedor tem seu salário mensal calculado da seguinte maneira: ele ganha um valor fixo de R\$750,00, mais uma comissão de R\$3,00 para cada produto vendido. Caso ele venda mais de 100 produtos, sua comissão passa a ser de R\$9,00 para cada produto vendido, a partir do 101º produto vendido.

Com essas informações, o gráfico que melhor representa a relação entre salário e o número de produtos vendidos é



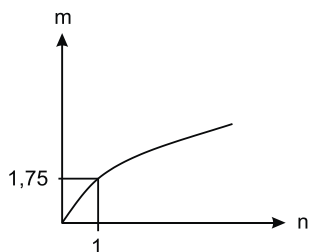


d)

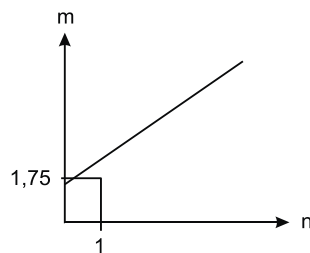


e)

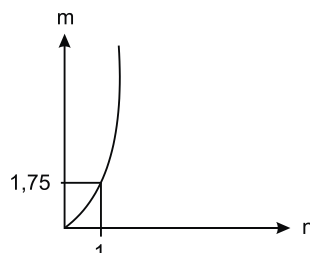
8. (Enem 2011) As frutas que antes se compravam por dúzias, hoje em dia, podem ser compradas por quilogramas, existindo também a variação dos preços de acordo com a época de produção. Considere que, independente da época ou variação de preço, certa fruta custa R\$ 1,75 o quilograma. Dos gráficos a seguir, o que representa o preço m pago em reais pela compra de n quilogramas desse produto é



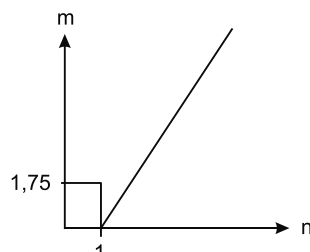
a)



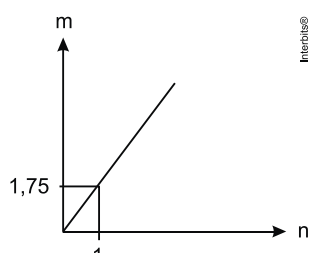
b)



c)



d)



e)

9. (Enem 2011) O prefeito de uma cidade deseja construir uma rodovia para dar acesso a outro município. Para isso, foi aberta uma licitação na qual concorreram duas empresas. A primeira cobrou R\$ 100.000,00 por km construído (n), acrescidos de um valor fixo de R\$ 350.000,00, enquanto a segunda cobrou R\$ 120.000,00 por km construído (n), acrescidos de um valor fixo de R\$ 150.000,00. As duas empresas apresentam o mesmo padrão de qualidade dos serviços prestados, mas apenas uma delas poderá ser contratada. Do ponto de vista econômico, qual equação possibilitaria encontrar a extensão da rodovia que tornaria indiferente para a prefeitura escolher qualquer uma das propostas apresentadas?

- a) $100n + 350 = 120n + 150$
- b) $100n + 150 = 120n + 350$
- c) $100(n + 350) = 120(n + 150)$
- d) $100(n + 350.000) = 120(n + 150.000)$
- e) $350(n + 100.000) = 150(n + 120.000)$

10. (Enem 2010) Nos processos industriais, como na indústria de cerâmica, é necessário o uso de fornos capazes de produzir elevadas temperaturas e, em muitas situações, o tempo de elevação dessa temperatura deve ser controlado, para garantir a qualidade do produto final e a economia no processo.

Em uma indústria de cerâmica, o forno é programado para elevar a temperatura ao longo do tempo de acordo com a função

$$T(t) = \begin{cases} -\frac{7}{5}t + 20, & \text{para } 0 \leq t < 100 \\ \frac{2}{125}t^2 - \frac{16}{5}t + 320, & \text{para } t \geq 100 \end{cases}$$

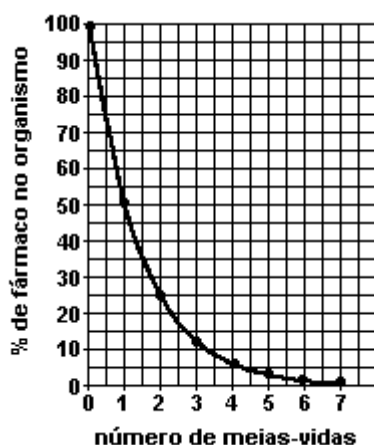
em que T é o valor da temperatura atingida pelo forno, em graus Celsius, e t é o tempo, em minutos, decorrido desde o instante em que o forno é ligado.

Uma peça deve ser colocada nesse forno quando a temperatura for 48°C e retirada quando a temperatura for 200°C .

O tempo de permanência dessa peça no forno é, em minutos, igual a

- a) 100.
- b) 108.
- c) 128.
- d) 130.
- e) 150.

11. (Enem 2007) A duração do efeito de alguns fármacos está relacionada à sua meia-vida, tempo necessário para que a quantidade original do fármaco no organismo se reduza à metade. A cada intervalo de tempo correspondente a uma meia-vida, a quantidade de fármaco existente no organismo no final do intervalo é igual a 50% da quantidade no início desse intervalo.



O gráfico anterior representa, de forma genérica, o que acontece com a quantidade de fármaco no organismo humano ao longo do tempo.

F. D. Fuchs e Cher I. Wannma. **Farmacologia Clínica**.
Rio de Janeiro: Guanabara Koogan, 1992, p. 40.

A meia-vida do antibiótico amoxicilina é de 1 hora. Assim, se uma dose desse antibiótico for injetada às 12 h em um paciente, o percentual dessa dose que restará em seu organismo às 13 h 30min será aproximadamente de

- a) 10%.
- b) 15%.
- c) 25%.
- d) 35%.
- e) 50%.

12. (Enem 2004) Um fabricante de cosméticos decide produzir três diferentes catálogos de seus produtos, visando a públicos distintos. Como alguns produtos estarão presentes em mais de um catálogo e ocupam uma página inteira, ele resolve fazer uma contagem para diminuir os gastos com originais de impressão. Os catálogos C_1 , C_2 e C_3 terão, respectivamente, 50, 45 e 40 páginas.

Comparando os projetos de cada catálogo, ele verifica que C_1 e C_2 terão 10 páginas em comum; C_1 e C_3 terão 6 páginas em comum; C_2 e C_3 terão 5 páginas em comum, das quais 4 também estarão em C_1 .

Efetuada os cálculos correspondentes, o fabricante concluiu que, para a montagem dos três catálogos, necessitará de um total de originais de impressão igual a:

- a) 135.
- b) 126.
- c) 118.
- d) 114.
- e) 110.